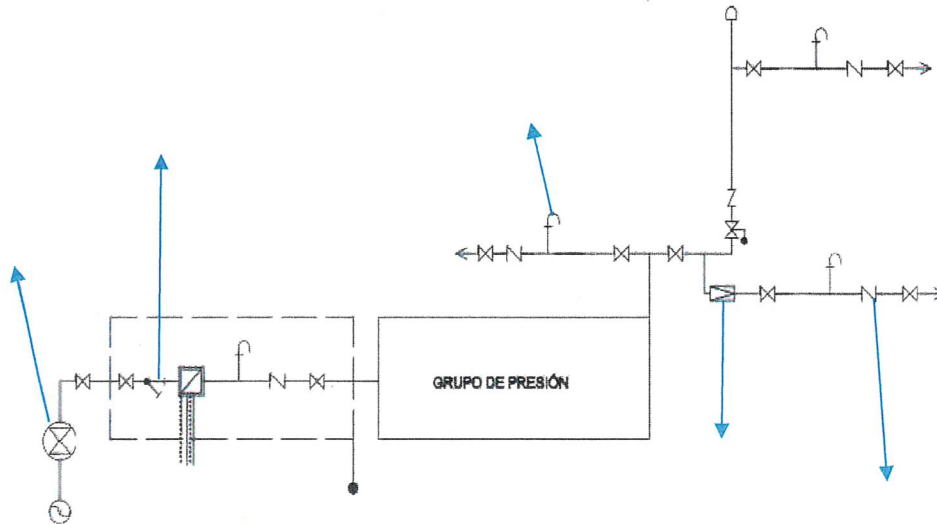


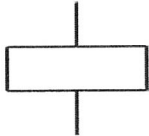



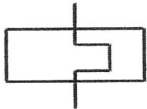
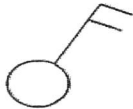

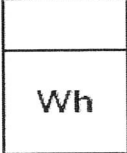


Examen práctico

1. Indica cada uno de los elementos de esta instalación de agua que están señalados. **(1 punto)**



2. Realiza el esquema eléctrico para un arranque directo de un motor trifásico con pulsadores de parada y marcha, tanto el esquema de fuerza y el de maniobra. Incluyendo los pilotos de señalización de parada y marcha. **(3 puntos)**

3. Indica a que corresponde cada uno de los símbolos eléctricos que se indican. (2 puntos)

Símbolo	Descripción
	
	
	
	
	
	
	
	
	
	

4. Realizar un esquema eléctrico de un punto de luz conmutado desde tres puntos. **(2 puntos)**

5. Enumera cinco instrumentos de medida de instalaciones eléctricas. **(2 puntos)**

